



Επιτροπή Διαγωνισμού του περιοδικού «Ο μικρός Ευκλείδης»
6^{ος} Πανελλήνιος Μαθητικός Διαγωνισμός «Παιχνίδι και Μαθηματικά»
30-3-2012 Για μαθητές της Στ' Τάξης Δημοτικού

Όνοματεπώνυμο:	Βαθμός	
..... Δημοτικό Σχολείο	Τάξη/Τμήμα	

ΘΕΜΑ 1^ο

Πόσες ορθές γωνίες σχηματίζονται συνολικά στο διπλανό σχήμα:

Κύκλωσε το σωστό:

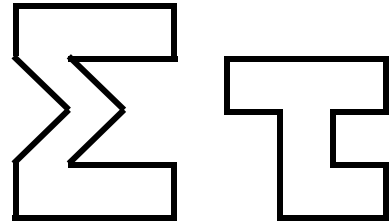
A) 10

B) 12

Γ) 18

Δ) 20

Ε) κανένα από τα παραπάνω



ΘΕΜΑ 2^ο

Με 42 λουλούδια η Γεωργία έφτιαξε 7 ανθοδέσμες. Θέλει να φτιάξει 9 ακόμη ανθοδέσμες, ίδιες με τις προηγούμενες, αλλά έχει μόνο 22 λουλούδια. Πόσα λουλούδια της λείπουν;
Λύση

Απάντηση:

ΘΕΜΑ 3^ο

Να υπολογίσεις την τιμή της παράστασης $\left(\frac{3}{8} : \frac{1}{4}\right) + \left(\frac{4}{5} : \frac{1}{5}\right) + \left(\frac{1}{6} : \frac{1}{3}\right) =$

ΘΕΜΑ 4^ο

Οι μαθητές της Στ' τάξης ρώτησαν τα παιδιά του σχολείου τους ποιο είδος διασκέδασης προτιμούν. Οι μισοί μαθητές δήλωσαν πως προτιμούν τις επισκέψεις σε σπίτια φίλων, το 1/4 των μαθητών δήλωσαν πως προτιμούν τις αθλητικές δραστηριότητες, 12 μαθητές προτιμούν να βλέπουν τηλεόραση, και οι υπόλοιποι 28 είπαν πως προτιμούν να πηγαίνουν στον κινηματογράφο. Πόσοι μαθητές πήραν μέρος στην έρευνα;

Λύση

Απάντηση:

ΘΕΜΑ 5^ο

Για να παρακολουθήσουν μια θεατρική παράσταση 3 γονείς με τα 4 παιδιά τους, πλήρωσαν συνολικά 62€. Ενώ άλλοι 3 γονείς με τα 5 παιδιά τους, πλήρωσαν συνολικά 70€. Πόσο κοστίζει το εισιτήριο για το κάθε παιδί και πόσο για τον κάθε γονέα;

Λύση

Απάντηση: Το εισιτήριο για κάθε παιδί κοστίζει και για κάθε γονέα

ΘΕΜΑ 6°

Από αυτά που μας λέει κάθε παιδί, πόσα γραμματόσημα έχει στη συλλογή του;

Έχω πάνω από 120 και λιγότερα από 140. Αν είχα ακόμα ένα, θα μπορούσα να τα βάλω ανά 5 και ανά 9 χωρίς να περισσεύει κανένα.



Μιχάλης



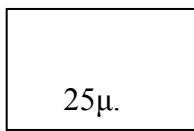

Αναστασία

Η αδελφή μου η Μαρία έχει 90 γραμματόσημα. Αν της έδινα 30 από τα δικά μου, θα είχαμε τον ίδιο αριθμό γραμματοσήμων.

Ο Μιχάλης έχει γραμματόσημα. Η Αναστασία έχει γραμματόσημα.

ΘΕΜΑ 7°

Δύο αδέρφια αγόρασαν δύο οικόπεδα που έχουν το ίδιο εμβαδόν. Το οικόπεδο του πρώτου είναι τετράγωνο με περίμετρο 80μ. Το οικόπεδο του δεύτερου είναι ορθογώνιο παραλληλόγραμμο που η μία πλευρά του έχει μήκος 25μ. Πόσα μέτρα είναι η άλλη πλευρά του δεύτερου οικοπέδου;



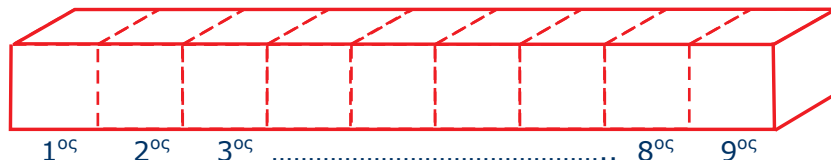
Λύση

;

Απάντηση:

ΘΕΜΑ 8°

Το παρακάτω στερεό αποτελείται από 9 ίδιους μικρούς ξύλινους κύβους τοποθετημένοι ο ένας δίπλα στον άλλο. Κάθε μικρός κύβος έχει επιφάνεια 6 τετρ. εκατοστά. Πόσα τετρ. εκατοστά είναι η συνολική επιφάνεια του στερεού ; (κύκλωσε το σωστό)



A. 42

B. 45

Γ. 38

Δ. 20

Ε. 54

ΘΕΜΑ 9°

Αντιστοίχισε τους παρακάτω αριθμούς, ώστε ανά δυο να έχουν γινόμενο 1.

$$\frac{100}{3}$$

$$\frac{10}{3}$$

$$\frac{1000}{3}$$

$$\frac{10}{30}$$

$$\frac{1}{30}$$

$$0,3$$

$$0,03$$

$$0,003$$

$$30$$

$$3$$

ΘΕΜΑ 10°

Μια επιβατική αμαξοστοιχία με 3 βαγόνια όταν ξεκίνησε είχε συνολικά 70 επιβάτες. Στον πρώτο σταθμό κατέβηκαν 6 επιβάτες από το πρώτο βαγόνι, 8 από το δεύτερο, 2 από το τρίτο και δεν ανέβηκε κανένας επιβάτης. Έμειναν έτσι στο κάθε βαγόνι ο ίδιος αριθμός από επιβάτες. Πόσους επιβάτες είχε το κάθε βαγόνι της αμαξοστοιχίας όταν αυτή ξεκίνησε;

Λύση

Απάντηση: Το πρώτο βαγόνι έχει επιβάτες, το δεύτερο έχεικαι το τρίτο επιβάτες.

Καλή Επιτυχία